

Test 7

Versione A

SNA - Scuola Nazionale dell'Amministrazione

LEGGERE E RISPONDERE ALLE DOMANDE DA 1 A 4

Un'analisi realizzata da Cerved, che raccoglie e rielabora i bilanci del 2016 di circa 8 mila Comuni italiani, rivela che sulle casse dei suddetti Comuni incombe un totale di crediti correnti "difficilmente esigibili", perché sorti da almeno 12 mesi, che ammonta a 23,3 miliardi. Questa tipologia di crediti emerge dai bilanci alla voce "residui attivi esercizi precedenti" ovvero somme accertate e non riscosse entro il termine dell'esercizio, che includono importi di natura tributaria, contributiva, perequativa o entrate extra tributarie. Questa incognita sui conti continua ad aggravarsi: tra il 2015 e il 2016 è cresciuta da 20,3 a 23,7 miliardi, mentre nel 2014 era di 19,8 miliardi. Roma, Milano e Napoli risultano essere responsabili del peggioramento per circa i 2/3 dell'incremento nel triennio 2014-2016. Stagione dopo stagione le probabilità d'incasso dei suddetti crediti calano e questi 23,3 miliardi rappresentano quasi la metà delle entrate correnti dei Comuni. Il buco è più vistoso nei Comuni di Calabria, Campania e Sicilia, tre regioni dove il credito "difficilmente esigibile" *pro capite* è compreso tra i 506 € e i 361 €, contro una media nazionale di 207 €. Considerando non più i valori medi per abitante ma l'importo complessivo non incassato da più di un anno, la classifica vede il Lazio sul gradino più alto (5,8 miliardi), seguito da Campania (4,5 miliardi) e Lombardia (2,6 miliardi). Nei Comuni di queste tre regioni si accumulano quasi 13 miliardi di crediti di lunga data, oltre la metà del totale.

- 1** In base a quanto riportato nel brano, a quanto ammonta la percentuale di crescita italiana dei "residui attivi esercizi precedenti" tra il 2014 e il 2016?

 - A Circa 8%
 - B Circa 30%
 - C Circa 20%

- 2** In base a quanto riportato nel brano, a quanti miliardi ammontano i 2/3 dell'incremento dei crediti correnti difficilmente esigibili nel triennio 2014-2016?

 - A Circa 1,3
 - B Circa 3,9
 - C Circa 2,6

- 3** In base alle indicazioni riportate nel brano, a quanto corrisponde la media pro capite del credito "difficilmente esigibile", se si considerano i dati di Lazio, Campania e Lombardia?

 - A 433,50 €
 - B Non è possibile rispondere in base ai dati contenuti nel brano
 - C 289,00 €

- 4** In base a quanto riportato nel brano, perché i crediti vengono definiti "difficilmente esigibili"?

 - A Perché la maggioranza di questi crediti proviene da regioni in gravi difficoltà finanziarie
 - B Perché oltre la metà di questi crediti risiede nelle maggiori regioni italiane
 - C Perché il pagamento è dovuto da oltre 12 mesi

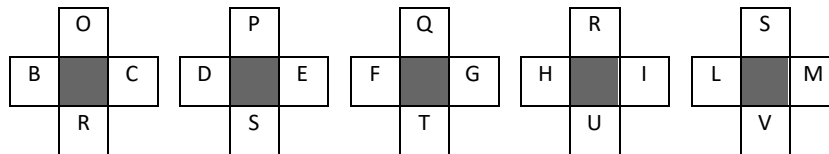
LEGGERE E RISPONDERE ALLE DOMANDE DA 5 A 8

Le innovazioni tecnologiche hanno sempre trasformato il lavoro, spinte dal soffio moderno nella vita pratica. Oggi l'avvento delle piattaforme digitali ha modificato la produzione, il lavoro e il consumo. La piattaforma si presenta sul mercato attraverso il *work on demand* ed il *crowdsourcing*: nel primo caso favorisce l'esecuzione di una prestazione che si materializza nell'economia reale; nel secondo caso il lavoro si svolge interamente online, attraverso l'affidamento di compiti a una folla indeterminata, contattata mediante una *call* rivolta al migliore o al più veloce. Il diritto del lavoro, dovendo fronteggiare l'impatto dell'esplosione dei nuovi consumi online, con il suo paradossale seguito di lavori inimmaginabili, vive oggi una situazione che sembra un futuro medievalizzato. Il '900, con il suo complesso carico di diritti legati proprio al tema del lavoro, si schianta con l'oggi dell'intelligenza artificiale e dei *big data*, con lo sviluppo delle mansioni create dal nuovo rapporto uomo-app. La digitalizzazione dell'economia pone nel proscenio il cittadino come consumatore e lascia in ombra la dimensione del cittadino come lavoratore. Il doppio "Jobs Act" non riesce a intercettare la rapida evoluzione materiale dei comportamenti di datori di lavoro e occupati. Il lavoro resta una realtà difforme e varia nei referenti, nelle modalità operative, nelle condizioni. Ed il tema del lavoro diventa difficile da rendere in categorie giuridiche razionali e semplici. La bicromia del lavoro, subordinato o autonomo, deve fare i conti con una nuova scala di colori e con le sfumature prodotte dalle inevitabili contaminazioni.

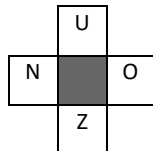
- 5** *In base a quanto riportato nel brano, quale tra le seguenti informazioni è da ritenersi errata?*
- A** Le tutele previste dagli attuali sistemi di welfare e dalle politiche del lavoro, ancorate ad un modello di economia tipico del '900, restano ancora sostenibili
 - B** Cresce l'area grigia tra le definizioni di lavoro autonomo e lavoro subordinato
 - C** Il lavoro oggi si muove in contesti fluidi e per questo le leggi pensate per il lavoro dal contesto statico sono di difficile applicazione
- 6** *Che tipo di figura retorica rappresenta l'espressione "futuro medievalizzato" riportata nel brano ?*
- A** Pleonasma, cioè l'aggiunta di parole o elementi grammaticali non necessari
 - B** Iperbole, cioè l'esagerazione della realtà tramite espressioni che l'amplificano, per eccesso o per difetto
 - C** Ossimoro, cioè l'accostamento di due termini di senso contrario o comunque in forte antitesi tra loro
- 7** *In base a quanto riportato nel brano, un esempio di prestazione offerta da una piattaforma digitale che si materializza poi nell'economia reale può essere rappresentato da un lavoro di:*
- A** baby-sitting
 - B** apprendimento virtuale
 - C** revisione di un testo su "Wikipedia"
- 8** *In base al contesto del brano, che cosa significa l'espressione "pone nel proscenio"?*
- A** Lascia in ombra
 - B** Tiene in disparte
 - C** Prende in considerazione

- 9** Ciascuna delle alternative proposte è stata classificata secondo una delle seguenti categorie: a) sempre vero; b) qualche volta vero; c) falso; d) opinione. Individuate l'alternativa classificata erroneamente.
- A Il tessuto di colore blu è il più sobrio (opinione)
 B Le orchestre suonano musica classica (qualche volta vero)
 C Il gatto uggiola (sempre vero)
- 10** Loris ha ricevuto un buono da 128 euro. Ogni giorno spende metà di quello che possiede. In quale giorno rimarrà senza neanche 1 euro?
- A Al dodicesimo giorno
 B Al nono giorno
 C Al settimo giorno
- 11** In ogni coppia di parole, la parola contrassegnata con (*) è stata riscritta osservando una regola. Due delle coppie di parole osservano la stessa regola. Individuate quale delle alternative proposte non osserva tale regola.
- A mendico; medico (*)
 B malumore; malore (*)
 C malessere; messere (*)
- 12** Un millepiedi vuole arrivare alla sommità di una vetrata alta 10 metri. Ogni giorno avanza di 2 metri, ma scivola indietro di un metro. In quale giorno toccherà la cima della vetrata?
- A Al decimo giorno di scalata
 B All'undicesimo giorno di scalata
 C Al nono giorno di scalata

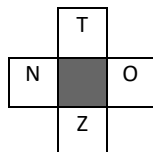
- 13** Individuate fra le tre alternative proposte quella che prosegue correttamente la serie di seguito riportata.



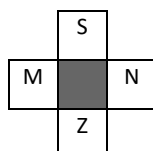
A



B



C



14 Date le seguenti regole: a) il numero di lettere è doppio oppure la metà; b) le lettere sono le stesse (anagramma); c) le vocali oppure le consonanti sono le stesse anche se poste in un diverso ordine. Una volta stabilita la regola che regge la relazione nella prima coppia di termini di seguito indicata, individuate, fra le tre alternative proposte, qual è quella che in base alla stessa regola può completare la seconda coppia di termini. RAPA - ARPA; COLLA - ...

- A COLLANA
- B GRADO
- C CALLO

15 Date le seguenti regole: a) il numero di lettere è doppio oppure la metà; b) le lettere sono le stesse (anagramma); c) le vocali oppure le consonanti sono le stesse anche se poste in un diverso ordine. Una volta stabilita la regola che regge la relazione nella prima coppia di termini di seguito indicata, individuate, fra le tre alternative proposte, qual è quella che in base alla stessa regola può completare la seconda coppia di termini. GUANTI - TANGO; VALIGE - ...

- A VALIDO
- B VIGILIA
- C VIALE

16 *Basandovi sulla successione delle lettere dell'alfabeto italiano, individuate quale delle alternative A, B o C può logicamente sostituire uno dei punti di domanda, nel gruppo di lettere riportato di seguito.*

	F		E		H		G		L	
S		S		T		T		U		?
	N		?		P		O		R	

- A I
- B V
- C U

17 *I numeri nei riquadri della tavola che segue risultano da una particolare associazione logica fra i numeri riportati rispettivamente nelle intestazioni di riga e di colonna. Individuate la regola caratterizzante la tavola, stabilite quale delle tre alternative può essere opportunamente collocata in uno dei riquadri vuoti.*

	67	96	84
14	53	82	
30			54

- A 43
- B 22
- C 70

18 Due delle tre serie numeriche riportate tra le alternative proposte, osservano la stessa regola. Individuate la serie che non osserva la stessa regola delle altre due.

- A 18; 16; 14; 12
- B 12; 19; 23; 29
- C 19; 17; 15; 13

19 Fissate le condizioni in alto, individuate il valore che può essere correttamente posto dopo l'uguale. SE XXXXYYYYKKKK = 2; SE XXYYYYYYKK = 6; XXXYYYYKKK = ...

- A 3
- B 4
- C 2

20 Individuato il valore che va logicamente collocato in luogo del punto interrogativo, ricercate fra le tre alternative proposte quella entro cui è compreso tale valore.

90	8	100	4
----	---	-----	---

30	24	40	12
----	----	----	----

104	?	114	18
-----	---	-----	----

- A Minore di 30
- B Maggiore di 42 e minore di 56
- C Maggiore o uguale a 35

21 Un mazzo di carte è costituito da 4 semi, denominati I/L/M/N, e 10 carte per ogni seme, 1/2/3/4/5/6/7/8/9/10. Nel riquadro di seguito riportate le carte sono state disposte secondo un preciso criterio. Fra le tre alternative proposte individuate la carta che può essere sostituita ad uno dei punti interrogativi.

4I	3L	4I
2M	1N	?
?	3L	4I

- A 1N
- B 6I
- C 2M

22 Esaminando le disposizioni dei numeri da 1 a 4 e i valori nei riquadri accanto, che indicano quanti numeri si trovano nell'esatta posizione di una combinazione nascosta, individuate, fra le tre proposte, la combinazione dei numeri corretta tenendo conto che lo stesso numero non può presentarsi più di una volta in una stessa combinazione.

1	3	4	2	1
2	3	1	4	0
1	4	3	2	0

- A 3; 2; 4; 1
- B 2; 3; 4; 1
- C 4; 1; 2; 3

23 Determinare quel numero il cui quadrato sommato a 9 è uguale al quadrato del suo successivo.

- A 14
- B 4
- C 5

24 Individuato il valore che va logicamente collocato in luogo del punto interrogativo, ricercate fra le tre alternative proposte quella entro cui è compreso tale valore.

110	100	93	89
-----	-----	----	----

67	57	50	46
----	----	----	----

42	32	25	?
----	----	----	---

- A Maggiore di 25
- B Maggiore di 10 e minore o uguale a 21
- C Minore di 18

25 La durata di ciascuna Camera:

- A non può essere prorogata se non per legge e soltanto in caso di guerra
- B può essere prorogata soltanto in caso di guerra e previa deliberazione di ciascuna Assemblea adottata a maggioranza dei due terzi
- C non può essere prorogata se non per legge

26 La potestà legislativa è esercitata dallo Stato e dalle Regioni nel rispetto:

- A della Costituzione e dei vincoli derivanti dall'ordinamento comunitario
- B della Costituzione e dei vincoli derivanti dall'ordinamento comunitario e dagli obblighi internazionali.
- C della Costituzione

27 Non si procede con referendum popolare per le leggi di revisione della Costituzione e per le altre leggi costituzionali, se approvate nella seconda votazione:

- A a maggioranza assoluta dei componenti di ciascuna Camera.
- B a maggioranza di tre quinti dei componenti di ciascuna Camera
- C a maggioranza di due terzi dei componenti di ciascuna Camera

28 L'art. 15 della Costituzione, secondo cui la libertà e la segretezza della corrispondenza e di ogni altra forma di comunicazione sono inviolabili, tutela:

- A la libertà di comunicare con una collettività indeterminata di persone
- B la libertà di comunicare con una o più persone determinate, escludendo gli altri, oppure con una collettività indeterminata di persone
- C la libertà di comunicare con una o più persone determinate, escludendo gli altri

29 Secondo il codice del processo amministrativo, entro quale termine può proporsi azione di risarcimento per lesione di interessi legittimi?

- A Entro il termine di decadenza di centoventi giorni decorrente dal giorno in cui il fatto si è verificato, ovvero entro il termine di sessanta giorni dalla conoscenza del provvedimento se il danno deriva direttamente da questo
- B Entro il termine di prescrizione quinquennale
- C Entro il termine di decadenza di centoventi giorni decorrente dal giorno in cui il fatto si è verificato ovvero dalla conoscenza del provvedimento se il danno deriva direttamente da questo

- 30 Nel caso in cui trovi applicazione il silenzio assenso, una volta decorso il termine di conclusione del procedimento, l'amministrazione:**
- A può emettere un provvedimento di rigetto entro 60 giorni dalla scadenza del termine di conclusione del procedimento
 - B non può più emettere un provvedimento di rigetto, ma può agire in via di autotutela
 - C può sempre emettere un provvedimento di rigetto
- 31 Secondo l'art. 16, d.lgs. 165/2001, gli atti e i provvedimenti adottati dai dirigenti preposti al vertice dell'amministrazione e dai dirigenti di uffici dirigenziali generali:**
- A non sono suscettibili di ricorso gerarchico
 - B non sono suscettibili di ricorso straordinario al Presidente della Repubblica
 - C non sono suscettibili di ricorso giurisdizionale
- 32 Nell'ambito dell'organizzazione delle città metropolitane, il sindaco metropolitano:**
- A è eletto dalla conferenza metropolitana
 - B è di diritto il sindaco del comune capoluogo, salvo che lo statuto ne preveda l'elezione diretta
 - C è eletto dal Consiglio metropolitano
- 33 Secondo l'art. 17 della legge n. 241 del 1990, ove sia previsto che per l'adozione di un provvedimento debbano essere preventivamente acquisite le valutazioni tecniche di organi od enti appositi e tali organi ed enti non provvedano o non rappresentino esigenze istruttorie nei termini prefissati, il responsabile del procedimento:**
- A può procedere indipendentemente dall'acquisizione delle valutazioni tecniche
 - B deve chiedere le valutazioni tecniche ad altri organi dell'amministrazione pubblica o ad enti pubblici che siano dotati di qualificazione e capacità tecnica equipollenti, ovvero ad istituti universitari
 - C può chiedere le valutazioni tecniche ad altri organi dell'amministrazione pubblica o ad enti pubblici che siano dotati di qualificazione e capacità tecnica equipollenti, ovvero ad istituti universitari
- 34 L'efficacia della determinazione motivata di conclusione della conferenza di servizi è sospesa, per il periodo utile all'esperimento dell'opposizione al Presidente del Consiglio dei ministri:**
- A in tutti i casi di approvazione sulla base delle posizioni prevalenti
 - B in caso di approvazione sulla base delle posizioni prevalenti, ove siano stati espressi dissensi qualificati da parte di amministrazioni preposte alla tutela di interessi c.d. sensibili
 - C ove lo richiedano almeno due delle amministrazioni partecipanti alla conferenza
- 35 Secondo l'art. 3, della legge n. 20/1994 su quali dei seguenti atti la Corte dei Conti esercita un controllo preventivo di legittimità?**
- A Atti di liquidazione dei trattamenti di quiescenza dei dipendenti
 - B Provvedimenti dei comitati interministeriali di riparto o assegnazione di fondi
 - C Gestioni fuori bilancio
- 36 In materia di contratti pubblici, l'aggiudicazione:**
- A equivale ad accettazione dell'offerta
 - B non equivale ad accettazione dell'offerta
 - C può equivalere ad accettazione dell'offerta, ove ciò sia previsto dal piano triennale di prevenzione della corruzione
- 37 La sospensione dell'efficacia del provvedimento amministrativo da parte dello stesso organo che lo ha emanato non può essere disposta oltre:**
- A i termini per l'esercizio del potere di annullamento d'ufficio
 - B i termini per l'esercizio del potere di revoca
 - C i termini per l'impugnazione del provvedimento stesso dinanzi al giudice amministrativo

- 38** Gli atti legislativi dell'Unione europea possono essere adottati:
- A su proposta della Commissione, del Consiglio europeo o del Consiglio, salvo che i trattati non dispongano diversamente
 - B solo su proposta della Commissione, salvo che i trattati non dispongano diversamente
 - C su proposta del Consiglio europeo o del Consiglio o, se i trattati lo prevedono, della Commissione
- 39** Nell'organizzazione dell'Unione europea, la maggioranza qualificata del Consiglio si raggiunge:
- A quando è favorevole almeno il 55% dei membri del Consiglio oppure un numero di rappresentanti di Stati membri che totalizzino almeno il 65% della popolazione dell'Unione
 - B quando è favorevole almeno il 55% dei membri del Consiglio, con un minimo di quindici
 - C quando è favorevole almeno il 55% dei membri del Consiglio, con un minimo di quindici, rappresentanti Stati membri che totalizzino almeno il 65% della popolazione dell'Unione
- 40** La Conferenza generale dell'Organizzazione internazionale del lavoro (ILO) è composta da:
- A il ministro del lavoro in carica per ciascuno Stato membro, o un suo delegato, e un rappresentante scelto dalle organizzazioni sindacali più rappresentative sul piano nazionale, entrambi con diritto di voto
 - B quattro delegati per ogni Stato membro, di cui due rappresentanti del governo, un rappresentante dei datori di lavoro e un rappresentante dei lavoratori, ciascuno con diritto di voto
 - C un rappresentante per ogni Stato membro, con diritto di voto, e un pari numero di rappresentanti delle organizzazioni sindacali maggiormente rappresentative a livello internazionale, senza diritto di voto
- 41** Si consideri un contesto di lungo periodo nel quale il tasso d'interesse reale è inferiore al tasso di crescita del PIL reale e il rapporto tra disavanzo primario e PIL è costante. In questa circostanza:
- A il disavanzo pubblico è insostenibile
 - B il debito pubblico è insostenibile
 - C il debito pubblico è sostenibile
- 42** Se gli investimenti delle imprese dipendono positivamente dal livello di reddito e sono indipendenti dal tasso d'interesse, la variazione del reddito nazionale a fronte di un incremento della domanda aggregata autonoma:
- A è inferiore a quella che si avrebbe in presenza di investimenti costanti
 - B è uguale a quella che si avrebbe in presenza di investimenti costanti
 - C è superiore a quella che si avrebbe in presenza di investimenti costanti
- 43** Si consideri un regime di monopolio nel quale il costo marginale è indipendente dal livello della produzione e la curva di domanda di mercato è lineare; se tale costo marginale aumenta di un ammontare fisso pari a k , il prezzo di mercato:
- A aumenta più di k
 - B aumenta di k
 - C aumenta meno di k
- 44** Nell'ambito del modello neoclassico di crescita (formulato da Robert Solow), un aumento del tasso di deprezzamento del capitale determina:
- A effetti nulli sul rapporto capitale-lavoro di stato stazionario
 - B un aumento del rapporto capitale-lavoro di stato stazionario
 - C una flessione del rapporto capitale-lavoro di stato stazionario
- 45** La rendita o surplus del consumatore rappresenta:
- A la differenza tra quanto il consumatore paga effettivamente per l'acquisto di un bene e il ricavo che l'impresa ottiene dalla sua vendita
 - B la differenza tra quanto il consumatore è disposto a pagare per un bene e quanto paga effettivamente per il suo acquisto
 - C la differenza tra quanto il consumatore paga effettivamente per l'acquisto di un bene e il suo costo di produzione

- 46 L'efficienza nella composizione del prodotto è soddisfatta se:**
- A il saggio marginale di sostituzione tecnica per ogni coppia di fattori produttivi è uguale al saggio marginale di trasformazione tra beni
 - B il saggio marginale di trasformazione tra beni è uguale al saggio marginale di sostituzione tra beni dei diversi consumatori
 - C il saggio marginale di sostituzione per ogni coppia di beni è uguale al saggio marginale di sostituzione tecnica per ogni coppia di fattori produttivi
- 47 La curva di Engel indica:**
- A la relazione ottimale che intercorre tra la quantità domandata di un bene e il prezzo di un altro bene
 - B la relazione ottimale che intercorre tra la quantità domandata di un bene e il prezzo di quel bene
 - C la relazione ottimale che intercorre tra la quantità domandata di un bene e il reddito del consumatore
- 48 Secondo la teoria della "parità dei poteri d'acquisto":**
- A il tasso di cambio reale cresce a tasso costante
 - B il tasso di cambio reale è costante
 - C il tasso di cambio nominale è costante
- 49 Le Amministrazioni pubbliche che, in base alla specifica normativa, adottano la c.d. "contabilità civilistica" devono avere, come minimo, un modello di contabilità:**
- A economico-patrimoniale "analitico"
 - B integrata: finanziaria ed economico-patrimoniale
 - C economico-patrimoniale "generale"
- 50 Secondo la teoria sulla motivazione associata a Maslow:**
- A il vertice della scala gerarchica dei bisogni è occupato dai bisogni di auto-realizzazione
 - B il vertice della scala gerarchica dei bisogni è occupato dai bisogni di socialità
 - C il vertice della scala gerarchica dei bisogni è occupato dai bisogni di sicurezza
- 51 L'organizzazione scientifica del lavoro si caratterizza per aver collegato il concetto di efficacia organizzativa alla capacità dell'organizzazione di:**
- A adattarsi alle contingenze esterne
 - B adottare una modalità ottimale di organizzazione
 - C definire l'equilibrio economico tra costi di transazione e produzione sia interni che esterni
- 52 All'interno di una forma meccanica di micro-struttura del lavoro, le mansioni caratterizzate da un basso grado di specializzazione orizzontale:**
- A si caratterizzano per la presenza di un elevato livello di controllo sull'attività attribuito al titolare della mansione
 - B si caratterizzano per un numero di compiti limitato o molto limitato
 - C si caratterizzano per un numero di compiti alto o altissimo
- 53 La teoria dell'ecologia delle popolazioni organizzative di Aldrich si distingue nel panorama delle teorie organizzative per:**
- A aver messo in evidenza i processi e gli stadi evolutivi delle organizzazioni
 - B messo in evidenza l'importanza delle transazioni economiche come unità di analisi delle organizzazioni
 - C sviluppato il concetto di isomorfismo organizzativo
- 54 All'interno di una macro-struttura organizzativa di tipo divisionale, le unità organizzative di tipo divisionale sono organizzate:**
- A in base alla omogeneità delle competenze dei membri dell'unità organizzativa
 - B in base al servizio/prodotto offerto agli utenti
 - C in base alla omogeneità delle conoscenze dei membri dell'unità organizzativa

- 55** Nell'ambito dell'analisi delle politiche pubbliche, in ogni decisione, l'attore politico:
A tenderà a scegliere l'alternativa che risulta preferibile dal punto di vista tecnico-scientifico
B tenderà a scegliere l'alternativa che massimizza il proprio consenso
C tenderà a scegliere l'alternativa che minimizza l'utilizzo di risorse finanziarie pubbliche
- 56** Read the text below and decide which answer best fits the gap.
Like many English people I prefer milk to lemon in tea, but can't stand it in _____ coffee.
A the
B any
C my
- 57** Read the text below and decide which answer best fits the gap.
The department's plan to implement government guidelines appears _____, although I would have liked to have seen more details about staffing and costs, one of the main areas of concern.
A rigorous
B correct
C sound
- 58** Read the text below and decide which answer best fits the gap.
Some Scandinavian capitals saw a slight decline in their overall _____ in this year's "Best Places to Live in Europe" report from The Times, probably due to rising crime rates and stricter rules curbing local government spending.
A ranking
B classings
C specifications
- 59** Read the text below and decide which answer best fits the gap.
It's _____ you found yourself a new job, you'll be burnt out before you're thirty if you go on working these ridiculously long hours.
A high time
B the hour
C essential
- 60** Which of these phrasal verbs means "to choose not to be involved in something"?
A Get over
B Go in for
C Opt out