

Test 3

Versione A

SNA - Scuola Nazionale dell'Amministrazione

LEGGERE E RISPONDERE ALLE DOMANDE DA 1 A 4

Il report dello studio “Scuola. Orizzonte 2028”, condotto dalla Fondazione Agnelli, stima una discesa da 9 a 8 milioni di bambini e ragazzi nella fascia d’età 3-18 anni e tratteggia l’Italia che si siederà tra i banchi di scuola da qui a dieci anni. La scuola dell’infanzia perderà oltre 6.300 alunni, la primaria quasi 18mila, la secondaria di I grado 9.300 e quelle di II grado circa 3mila. L’effetto combinato già in essere tra la diminuzione del numero di madri potenziali (–10% di 15-45enni tra il 2007 e il 2017) e la riduzione della loro propensione a fare figli porterà verso il basso il plotone dei nostri connazionali in età scolastica. Complice anche il calo di fecondità delle donne straniere e la riduzione dei flussi migratori. Poiché il numero di posti a disposizione ogni anno dipende innanzitutto dal numero di classi che si riesce a formare, lo stock di insegnanti da assumere tenderà a scendere di 12.600 unità alle scuole dell’infanzia, di 22.100 alla primaria, di 24.600 alle secondarie. Da un lato si assisterà ad un rallentamento del turnover degli insegnanti; dall’altro risentiranno della situazione il rinnovamento del corpo docente e l’innovazione didattica. Lo studio individua due vie di uscita. La prima: non intervenire; che avrebbe un effetto benefico per le casse dello Stato che potrebbe risparmiare fino a 1,8 miliardi, ma non aiuterebbe certo il rinnovamento della classe docente italiana. La seconda: intervenire, aumentando il numero di insegnanti per classe, riducendo il numero di allievi per classe o rafforzando la scuola aperta di pomeriggio.

- 1** **In base a quanto riportato nel brano, la disposizione corretta dei quattro ordini scolastici, rispetto al calo degli alunni, dal maggiore al minore è:**
 - A primaria, secondaria di I grado, dell’infanzia, secondaria di II grado
 - B primaria, secondaria di II grado, dell’infanzia, secondaria di I grado
 - C primaria, dell’infanzia, secondaria di I grado, secondaria di II grado

- 2** **Nel contesto del brano, l’espressione “effetto combinato” si riferisce a:**
 - A esito prodotto da un insieme di eventi interagenti
 - B prescrizione desunta dal riferimento a più norme che si integrano le une con le altre
 - C insieme di cose che si integrano, ma non producono un risultato effettivo

- 3** **In seguito alla lettura del brano è possibile sostenere che:**
 - A tra il 2007 e il 2017, il numero di madri potenziali in Italia è sceso di 10mila unità
 - B è un dato certo che “il plotone dei nostri connazionali” stia diminuendo
 - C si prevede che nella scuola secondaria per ogni alunno “perso” non verranno assunti 2 insegnanti

- 4** **Il brano parla di una previsione di riduzione nel numero di insegnanti da assumere. Considerandone il totale, quale ordine scolastico ne rappresenta oltre il 40%?**
 - A Scuola secondaria
 - B Scuola dell’infanzia
 - C Scuola primaria

LEGGERE E RISPONDERE ALLE DOMANDE DA 5 A 8

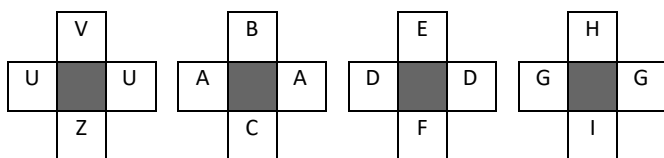
Tutti i membri delle Nazioni Unite hanno deciso di raggiungere entro il 2030 una copertura sanitaria universale. L'Organizzazione Mondiale della Sanità (OMS) sottolinea che offrire tale copertura garantirebbe a tutti gli individui e a tutte le comunità di ricevere servizi sanitari di cui hanno bisogno senza dover fare i conti con le difficoltà economiche. All'interno della copertura sanitaria universale sono inclusi servizi sanitari essenziali di qualità, da quelli mirati alla promozione della salute e della prevenzione, alle cure palliative, passando per i trattamenti e i servizi di riabilitazione. Secondo l'OMS i Paesi che si muovono nella direzione di una copertura sanitaria universale fanno passi in avanti anche verso altri obiettivi, nel campo della salute e non solo. L'OMS d'altra parte va oltre e specifica che cosa sottende questo concetto. Copertura sanitaria universale non significa offrire gratuitamente tutti i 18.260 possibili servizi sanitari, indipendentemente dal loro costo (nessuno Stato potrebbe permetterselo), significa fornire un pacchetto minimo di servizi per la salute, assicurandone una progressiva estensione nel momento in cui più risorse fossero disponibili. Inoltre, non significa offrire servizi solo ai singoli cittadini, ma prevedere azioni a livello di popolazione. Così declinato, il concetto di copertura sanitaria universale non riguarda solo la salute in senso stretto, ma è una questione di giustizia, di priorità per lo sviluppo, di coesione e di inclusione sociale.

- 5** In base a quanto riportato nel brano, quale tra i seguenti termini può sostituire “declinato”?
- A Gradito
 - B Abbassato
 - C Dichiarato
- 6** In base a quanto riportato nel brano, quale convinzione potrebbe essere alla base del proposito dell'OMS di garantire la copertura sanitaria universale?
- A La salute è un diritto di tutti e non un privilegio per pochi
 - B La salute non è un diritto, ma una condizione di vita
 - C La salute è un diritto per pochi, anche se è possibile prevedere un ampliamento della copertura sanitaria
- 7** In base a quanto riportato nel brano, la copertura sanitaria universale permetterebbe di evitare che le persone si trovino in quale tra le seguenti situazioni?
- A Che finiscano in povertà per aver sostenuto i costi di una malattia
 - B Che non possano curarsi a causa di una diagnosi medica tardiva
 - C Che accedano ai servizi di cura, ma non a quelli di prevenzione
- 8** In base a quanto riportato nel brano, Un esempio di obiettivo in un campo diverso dalla salute, perseguibile adottando la copertura sanitaria universale, potrebbe essere rappresentato da:
- A una studentessa che non frequenta regolarmente la scuola, pur essendo in salute
 - B una madre che non riesce a lavorare a causa del proprio malessere fisico
 - C un bambino che frequenta regolarmente la scuola, grazie a un buono stato di salute

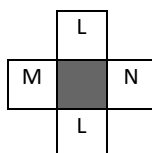
9 Date le seguenti regole: a) il numero di lettere è doppio oppure la metà; b) le lettere sono le stesse (anagramma); c) le vocali oppure le consonanti sono le stesse anche se poste in un diverso ordine. Una volta stabilita la regola che regge la relazione nella prima coppia di termini di seguito indicata, individuate, fra le tre alternative proposte, qual è quella che in base alla stessa regola può completare la seconda coppia di termini. PARCO - PIACERE ; PATATA - ...

- A TROTTARE
- B CONCRETO
- C PIATTO

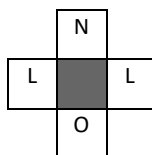
10 Individuate fra le tre alternative proposte quella che prosegue correttamente la serie di seguito riportata.



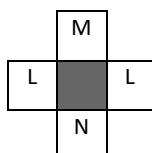
A



B



C



11 Date le seguenti regole: a) il numero di lettere è doppio oppure la metà; b) le lettere sono le stesse (anagramma); c) le vocali oppure le consonanti sono le stesse anche se poste in un diverso ordine. Una volta stabilita la regola che regge la relazione nella prima coppia di termini di seguito indicata, individuate, fra le tre alternative proposte, qual è quella che in base alla stessa regola può completare la seconda coppia di termini. PRASSI - GALLEGGIANTE; TUTTI - ...

- A BACCHETTA
- B ARARE
- C MACCHERONI

12 Ciascuna delle alternative proposte è stata classificata secondo una delle seguenti categorie: a) sempre vero; b) qualche volta vero; c) falso; d) opinione. Individuate l'alternativa classificata erroneamente.

- A I pipistrelli sono uccelli (falso)
- B La parola "parco" è un sostantivo (sempre vero)
- C Gli archetti sono elementi architettonici (qualche volta vero)

13 A quanto ammontano i 4/5 della terza parte di 75?

- A 20
- B 45
- C 25

- 14 Leonardo acquista un cono gelato da 4 euro. Se le palline di gelato costano 3 euro più del cono, qual è il prezzo del cono?
- A 50 centesimi
B 1,50 euro
C 3 euro

- 15 In ogni coppia di parole, la parola contrassegnata con (*) è stata riscritta osservando una regola. Due delle coppie di parole osservano la stessa regola. Individuate quale delle alternative proposte non osserva tale regola.
- A meritevole; iepiretohe (*)
B episcopaliano; eniqaonahialo (*)
C inconfessato; ilaoldepparo (*)

- 16 Fra le alternative A, B o C una può essere collocata al posto di una delle caselle schermate in modo da rispettare la logica con cui è stata costruita la sequenza riportata di seguito.

| | | | | | | | | | | | | |
|-----|-----|-----|--|-----|-----|--|-----|-----|-----|--|-----|-----|
| RTZ | ruz | ACF | | GIN | gln | | ort | UZC | uac | | dgi | LNQ |
|-----|-----|-----|--|-----|-----|--|-----|-----|-----|--|-----|-----|

- A OQS
B DFH
C adf

- 17 I numeri nei riquadri della tavola che segue risultano da una particolare associazione logica fra i numeri riportati rispettivamente nelle intestazioni di riga e di colonna. Individuate la regola caratterizzante la tavola, stabilite quale delle tre alternative può essere opportunamente collocata in uno dei riquadri vuoti.

| | | | | |
|---|----|----|-----|----|
| | 6 | 14 | 32 | 18 |
| 2 | | 28 | | |
| 5 | 30 | | 160 | |
| 3 | 18 | | | |

- A 40
B 56
C 70

- 18 Individuato il valore che va logicamente collocato in luogo del punto interrogativo, ricercate fra le tre alternative proposte quella entro cui è compreso tale valore.

| | | | |
|-----|----|----|---|
| 100 | 25 | 74 | 1 |
|-----|----|----|---|

| | | | |
|----|----|----|----|
| 96 | 11 | 25 | 60 |
|----|----|----|----|

| | | | |
|-----|----|----|---|
| 104 | 13 | 45 | ? |
|-----|----|----|---|

- A Maggiore di 50
B Minore o uguale a 40
C Maggiore o uguale a 40 e minore di 50

19 Due delle tre serie numeriche riportate tra le alternative proposte, osservano la stessa regola. Individuate la serie che non osserva la stessa regola delle altre due.

- A 28; 48; 76; 124
- B 9; 29; 38; 62
- C 12; 32; 44; 76

20 Esaminando le disposizioni dei numeri da 1 a 4 e i valori nei riquadri accanto, che indicano quanti numeri si trovano nell'esatta posizione di una combinazione nascosta, individuate, fra le tre proposte, la combinazione dei numeri corretta tenendo conto che lo stesso numero non può presentarsi più di una volta in una stessa combinazione.

| | | | | |
|---|---|---|---|---|
| 3 | 1 | 2 | 4 | 2 |
| 4 | 3 | 2 | 1 | 2 |
| 1 | 2 | 3 | 4 | 2 |

-
- A 4; 1; 2; 3
 - B 1; 3; 2; 4
 - C 3; 4; 2; 1

21 Individuato il valore che va logicamente collocato in luogo del punto interrogativo, ricercate fra le tre alternative proposte quella entro cui è compreso tale valore.

| | | | | | | | | |
|----|----|----|----|----|---|----|---|---|
| 80 | 35 | 20 | 65 | | 7 | 1 | 3 | 9 |
| | | | | | | | | |
| ? | | | | 11 | 5 | 31 | | |

- A Maggiore di 20 e minore o uguale a 37
- B Uguale a 30
- C Maggiore di 42

22 Fissate le prime due condizioni, individuate il valore che può essere correttamente posto dopo l'uguale nella terza condizione. SE $XXXXXX = 7$; SE $XXXXXXXXXX = 11$; $XXXX = \dots$

- A 5
- B 6
- C 8

- 23** Un mazzo di carte è costituito da 4 semi, denominati I/L/M/N, e 10 carte per ogni seme, 1/2/3/4/5/6/7/8/9/10. Nel riquadro di seguito riportate le carte sono state disposte secondo un preciso criterio. Fra le tre alternative proposte individuate la carta che può essere sostituita al punto interrogativo.

| | |
|----|-----|
| 5I | 10M |
| 2L | 9N |
| 8I | ? |
| 6L | 7N |
| 3I | 1M |

- A 4M
B 1L
C 2N
- 24** Determinare quel numero la cui quarta parte sommata a 28 è uguale al doppio dello stesso numero.
A 24
B 32
C 16
- 25** Allo scadere del mandato quadriennale del Consiglio Superiore della Magistratura chi ne esercita le funzioni ?
A Fino all'insediamento del nuovo Consiglio continua a funzionare quello precedente
B Fino all'insediamento del nuovo Consiglio viene nominata una commissione dal Ministro della Giustizia
C Fino all'insediamento del nuovo Consiglio le funzioni rimangono temporaneamente sospese
- 26** Ai sensi dell'articolo 117, secondo comma, della Costituzione, tra le materie di competenza legislativa esclusiva dello Stato, rientra:
A funzioni fondamentali di Comuni, Province e Città` metropolitane
B tutela e sicurezza del lavoro
C commercio con l'estero
- 27** Come sono formate le Commissioni parlamentari cui può essere deferito l'esame e l'approvazione dei disegni di legge?
A Garantendo la presenza di almeno due gruppi di opposizione
B Sulla base delle competenze professionali dei parlamentari
C In modo da rispecchiare la proporzione dei gruppi parlamentari
- 28** In caso di proposta da parte di almeno 50 mila elettori dei progetti di legge, corredata delle firme dei proponenti, presentata al Presidente di una delle due Camere, provvedere alla verifica ed al computo delle firme spetta:
A a tale Camera
B alla Camera dei deputati
C alla Suprema Corte di Cassazione
- 29** Ai fini del rispetto dell'obbligo di motivazione del provvedimento, le ragioni della decisione possono risultare da un altro atto dell'amministrazione (cd. motivazione per relationem) ?
A Sì, purché tale atto sia richiamato dalla decisione stessa e prodotto in giudizio
B Sì, purché tale atto sia richiamato dalla decisione stessa e reso disponibile ad destinatario
C No, perché la motivazione è un elemento essenziale dell'atto amministrativo cui si riferisce

- 30 Secondo l'art. 6 della legge n. 241 del 1990, l'organo competente per l'adozione del provvedimento finale, ove diverso dal responsabile del procedimento:**
- A può discostarsi dalle risultanze dell'istruttoria condotta dal responsabile del procedimento dandone comunicazione al dirigente dell'unità organizzativa sovraordinata
 - B può discostarsi dalle risultanze dell'istruttoria condotta dal responsabile del procedimento concordando con quest'ultimo il contenuto del provvedimento finale
 - C può discostarsi dalle risultanze dell'istruttoria condotta dal responsabile del procedimento indicandone la motivazione nel provvedimento finale
- 31 Secondo l'art. 95 del codice dei contratti pubblici, per gli appalti di servizi e forniture di importo inferiore alla soglia comunitaria, caratterizzati da elevata ripetitività:**
- A può essere utilizzato il criterio di aggiudicazione del minor prezzo
 - B deve essere utilizzato il criterio di aggiudicazione del minor prezzo
 - C non può essere utilizzato il criterio di aggiudicazione del minor prezzo
- 32 Il diritto di accesso ai documenti amministrativi, disciplinato dalla legge n. 241/1990:**
- A spetta ai soli soggetti che siano intervenuti nel procedimento amministrativo
 - B spetta a tutti i soggetti privati che abbiano un interesse diretto, concreto e attuale, corrispondente ad una situazione giuridicamente tutelata e collegata al documento al quale è chiesto l'accesso
 - C spetta a chiunque sia interessato a conoscere le informazioni detenute dalla pubblica amministrazione
- 33 Secondo l'art. 107 del Testo unico delle leggi sull'ordinamento degli enti locali (Tuel), i provvedimenti di autorizzazione, concessione o analoghi, il cui rilascio presupponga accertamenti e valutazioni, anche di natura discrezionale, sono attribuiti:**
- A al segretario comunale
 - B ai dirigenti
 - C al direttore generale
- 34 Ai sensi dell'art. 61 del codice del processo amministrativo (d.lgs. n. 104/2010), la misura cautelare anteriore alla causa:**
- A perde effetto con il decorso di 60 giorni dalla sua emissione
 - B rimane efficace sino alla pronuncia sulla domanda cautelare ordinaria
 - C rimane efficace fino a quando non sia revocata o modificata su istanza di parte
- 35 L'amministrazione procedente può procedere direttamente con conferenza di servizi in forma simultanea e in modalità sincrona, senza previo espletamento della conferenza semplificata:**
- A sì, se la richiesta è avanzata dalle amministrazioni partecipanti secondo il criterio delle posizioni prevalenti
 - B no, in quanto è sempre necessario il previo espletamento della conferenza semplificata
 - C sì, in relazione alla particolare complessità della determinazione da assumere o su richiesta motivata delle altre amministrazioni o del privato interessato
- 36 Secondo l'art. 5, comma 2, del d.lgs. n. 165 del 2001, le misure inerenti alla gestione dei rapporti di lavoro sono assunte:**
- A in via esclusiva dagli organi preposti alla gestione, previo esame congiunto con le rappresentanze sindacali
 - B in via esclusiva dagli organi preposti alla gestione, fatte salve la sola informazione ai sindacati ovvero le ulteriori forme di partecipazione, ove previsti nei contratti collettivi
 - C in via esclusiva dagli organi di governo, al fine di assicurare la rispondenza al pubblico interesse dell'azione amministrativa

- 37** Può l'amministrazione competente adottare provvedimenti interdittivi dell'attività avviata dal privato con segnalazione certificata di inizio attività ("SCIA") se siano trascorsi più di sessanta giorni dal ricevimento della SCIA?
- A Sì, in presenza delle condizioni previste per la revoca
 - B Sì, ma solo per la tutela dell'interesse pubblico in materia di ambiente, paesaggio, beni culturali, salute, sicurezza pubblica o difesa nazionale
 - C Sì, in presenza delle condizioni previste per l'annullamento d'ufficio
- 38** La legge di delegazione europea è finalizzata:
- A al conferimento di deleghe ai rappresentanti del governo in sede europea
 - B alla approvazione di disposizioni modificative o abrogative di disposizioni statali vigenti in contrasto con gli obblighi europei
 - C al conferimento di deleghe al governo per il recepimento di direttive europee
- 39** Il Presidente della Commissione europea:
- A è nominato dal Consiglio europeo, tenuto conto delle elezioni del Parlamento europeo, e deve presentarsi dinanzi al Parlamento europeo entro 15 giorni per ottenerne la fiducia
 - B è nominato dal Consiglio europeo fra un elenco di personalità selezionate in base alle proposte presentate dagli Stati membri, tenendo conto delle elezioni del Parlamento europeo
 - C è eletto dal Parlamento europeo su proposta del Consiglio europeo, tenuto conto delle elezioni del Parlamento europeo e dopo aver effettuato le consultazioni appropriate
- 40** Le Agenzie specializzate sono collegate alle Nazioni Unite:
- A sulla base di accordi di collegamento conclusi con il Consiglio Economico e Sociale e approvati dall'Assemblea generale
 - B sulla base di accordi di collegamento conclusi con il Consiglio di Sicurezza o con Il Consiglio Economico e Sociale e approvati dall'Assemblea Generale
 - C sulla base di accordi di collegamento conclusi con il Segretario Generale delle Nazioni Unite e approvati dall'Assemblea Generale
- 41** Si consideri un regime di concorrenza perfetta nel quale il costo marginale delle imprese è indipendente dal livello della produzione; se tale costo marginale aumenta per tutte le imprese di un ammontare fisso pari a k , il prezzo di mercato:
- A aumenta più di k
 - B aumenta di k
 - C aumenta meno di k
- 42** Quando si considera un mercato del prodotto perfettamente concorrenziale, un aumento del costo del lavoro provoca, in una condizione di equilibrio di lungo periodo:
- A uno spostamento della curva di offerta di ciascuna impresa verso il basso e un aumento del prezzo del bene
 - B uno spostamento della curva di offerta di ciascuna impresa verso l'alto e una flessione del prezzo del bene
 - C uno spostamento della curva di offerta di ciascuna impresa verso l'alto e un aumento del prezzo del bene
- 43** Quale delle seguenti misure di politica economica modifica il PIL reale di lungo periodo?
- A Una svalutazione del tasso di cambio
 - B Programmi di addestramento/formazione della forza lavoro che aumentano la dotazione di capitale umano
 - C Un aumento dell'offerta di moneta
- 44** Quale delle seguenti situazioni non configura un "fallimento di mercato"?
- A Produzione di beni rivali ed escludibili
 - B Fornitura di beni pubblici
 - C Asimmetrie informative

- 45** Se le curve d'indifferenza relative a due beni di consumo sono lineari, tali beni sono:
- A perfetti sostituti
 - B perfetti complementi
 - C normali
- 46** Si consideri una funzione del consumo lineare nella quale la propensione marginale a consumare reddito disponibile viene indicata con il parametro positivo $c < 1$. Si ipotizzi che il reddito dei consumatori sia tassato su base proporzionale all'aliquota t . In queste circostanze:
- A la propensione marginale a risparmiare reddito effettivo è: $1 - c - t$ (uno meno c meno t)
 - B la propensione marginale a consumare reddito effettivo è: $c - t$ (c meno t)
 - C la propensione marginale a consumare reddito effettivo è: $c(1 - t)$ (c moltiplicato per parentesi uno meno t)
- 47** In un regime di cambi fissi con capitali finanziari perfettamente mobili a livello internazionale, nel breve periodo una decisione delle autorità di svalutare il tasso di cambio provoca nell'ambito di una piccola economia aperta:
- A effetti ambigui sul reddito nazionale
 - B una riduzione del reddito nazionale
 - C un aumento del reddito nazionale
- 48** Si supponga che in un certo istante di tempo si verifichi una caduta della domanda aggregata autonoma. Nel breve periodo, al fine di lasciare la produzione nazionale invariata, le autorità di politica economica devono adottare:
- A una politica monetaria espansiva
 - B una politica monetaria restrittiva
 - C una combinazione di una politica fiscale restrittiva e di una politica monetaria restrittiva
- 49** L'equilibrio economico d'esercizio di una pubblica amministrazione può essere rappresentato dalla seguente equazione:
- A proventi + ricavi = oneri + costi
 - B entrate = uscite
 - C ricavi \geq costi + risultato economico minimo
- 50** L'organigramma di un'organizzazione rappresenta la raffigurazione formale:
- A dei suoi processi organizzativi
 - B del potere informale delle diverse unità organizzative
 - C della struttura gerarchica e formale dell'organizzazione
- 51** La forma organizzativa a matrice si caratterizza, prioritariamente, per la seguente caratteristica:
- A l'esistenza di un duplice vertice gerarchico di comando
 - B la presenza di una unica linea di comando gerarchico
 - C la presenza di sole unità organizzative di tipo funzionale
- 52** La teoria dell'organizzazione scientifica del lavoro di Taylor si distingue per l'elaborazione del concetto di:
- A isomorfismo organizzativo
 - B one best way
 - C one better fit

- 53 In tema di valutazione, che cosa si intende per OIV ?**
A Organismi indipendenti di valutazione
B Organismi interni di valutazione
C Organismi individuali di valutazione
- 54 All'interno della Pubblica Amministrazione, quale tra le seguenti alternative proposte si collega ad un sistema di valutazione del personale ?**
A MBO
B ROI
C ROE
- 55 Nell'approccio teorico di Herbert Simon, un attore razionale:**
A non ha bisogno di essere onnisciente, è sufficiente sia volto a conseguire un obiettivo che deve essere completamente definito sin dall'inizio del processo
B non ha bisogno di essere onnisciente, è sufficiente sia volto a conseguire un obiettivo anche se ciò non è completamente definito sin dall'inizio del processo
C deve essere onnisciente
- 56 Read the text below and decide which answer best fits the gap.**
_____ the overarching presence of the Internet of Things (IoT) in our daily lives, older people are still finding it difficult to adapt to its sudden rise, yet another aspect of the much-touted digital divide.
A Because of
B Despite
C On account of
- 57 Read the text below and decide which answer best fits the gap.**
More sectors were affected by the employment downturn in developed countries than in developing economies. ____ employment levels in hotels and restaurants have remained steady, signs of deterioration were evident elsewhere.
A Since
B Because
C While
- 58 Read the text below and decide which answer best fits the gap.**
The unresolved ____ over the Irish border has haunted the Brexit negotiations, leaving both sides desperately seeking an acceptable solution to all parties.
A contrast
B conflict
C affray
- 59 Which of these idiomatic phrases means “completely unexpected, without warning”?**
A Fat chance
B Out of the blue
C Ups and downs
- 60 Read the text below and decide which answer best fits the gap.**
The call for further investigation over the latest episode of food poisoning in a facility run by local authorities highlights the general ____ of oversight at grassroots level.
A default
B lack
C little