

Test 12

Versione B

SNA - Scuola Nazionale dell'Amministrazione

LEGGERE E RISPONDERE ALLE DOMANDE DA 1 A 4

Lo stesso sfrenato desiderio di arricchirsi in fretta, che aveva provocato la mania per lo “schema Ponzi” e la corsa alle terre della Florida, determinò la crescita dei prezzi delle azioni alla borsa di New York; invece di buttare il loro denaro nei mandati di pagamento della International Postal Union o nelle lottizzazioni, gli americani si misero a comprare i titoli messi in vendita dalle società per azioni. Dapprima lentamente, nel 1926 e 1927, poi a velocità pazzesca, nel 1928 e 1929, i prezzi dei titoli presero a salire. Il numero delle azioni elencate nel New York Stock Exchange crebbe da 500mila nel 1925 a 757mila nel 1928 fino a 1,127 milioni alla vigilia del disastro. La media dei titoli industriali, che era a 159 nel 1925, sfrecciò a 300 nel 1928, e guadagnò altri 81 punti fra gennaio e ottobre 1929. Nello stesso periodo, il valore di mercato di tutte le azioni della borsa newyorkese raddoppiò quasi, passando da 34 a 64 miliardi di dollari e il prezzo di un posto da agente di borsa andò da 76mila dollari a 625mila dollari. Nel 1929 c'erano fra 1,5 milioni e 2 milioni di azionisti e nello stesso anno, alla sola borsa di New York, una delle 27 esistenti nel Paese, gli acquirenti potevano scegliere fra 1.200 emissioni diverse, fra le quali molti fondi di investimento di società come l'International Securities Corporation o la Goldman Sachs Trading Corporation, che attiravano gli acquirenti offrendo loro una gestione professionale e un portafoglio di investimenti diversificati.

1 *Il contenuto del brano fa riferimento a:*

- A** il crollo improvviso dei prezzi dei titoli che si è verificato nel secolo scorso, nel secondo quinquennio degli anni '30
- B** la crescita vorticoso dei prezzi delle azioni che ha preceduto un disastro alla borsa di New York
- C** la crescita inarrestabile del valore delle azioni della International Postal Union verificatosi nel 1925

2 *In base a quanto riportato nel brano, nel periodo che va dal 1925 al 1929:*

- A** la media dei titoli industriali è cresciuta di oltre il 200%
- B** il prezzo per un posto di agente di borsa è incrementato di oltre il 700%
- C** il valore di mercato di tutte le azioni statunitensi è andato incontro a un aumento pari a circa il 50%

3 *È corretto affermare, in base a quanto riportato nel brano, che:*

- A** tra il 1925 e il 1928 c'è stato un incremento nel numero delle azioni elencate nel New York Stock Exchange pari a 157mila
- B** nel corso di circa quattro anni, tra il 1925 e il 1929, la media dei titoli industriali crebbe di oltre 200 punti
- C** a partire dal 1925, il numero di azioni elencate nel New York Stock Exchange raddoppiò nel corso dei tre anni successivi

4 *Secondo l'autore del brano:*

- A** la crescita dei prezzi delle azioni alla borsa di New York è stata provocata dal desiderio di fare denaro velocemente
- B** nel 1928 c'erano 1.200 emissioni diverse alla borsa di New York
- C** si contavano, nel 1929, oltre 2 milioni di azionisti alla borsa di New York

LEGGERE E RISPONDERE ALLE DOMANDE DA 5 A 8

La superficie della Terra – al netto della sua variabile utilità – è costante, mentre la popolazione cresce. Abbiamo un pianeta nel quale, rispetto a diecimila anni fa, agli esordi dell'età agricola, lo spazio disponibile per ciascuno di noi si è ridotto di mille volte. Secondo i dati ONU (Organizzazione delle Nazioni Unite) sulla popolazione mondiale, pari oggi a circa 7 miliardi e 349 milioni di anime, arriveremo a 9 miliardi e 725 milioni nel 2050 e a 11 miliardi e 213 milioni nel 2100, con una distribuzione sempre più diseguale. Le previsioni demografiche, meno inattendibili di quelle economiche, ci informano infatti che lo squilibrio fra continenti si accentuerà, a danno della nostra Europa sempre più anziana e infeconda. La popolazione europea, secondo le stime, andrà incontro a un decremento: dai 738 milioni di oggi a 646 milioni nel 2100. Fuori dall'Europa la situazione è molto diversa. Oltre la sponda mediterranea, la giovane Africa raddoppierà a metà secolo la sua popolazione attuale (oggi pari a circa 1 miliardo e 186 milioni di abitanti) e arriverà a quadruplicarla nel 2100. L'Asia, già molto popolosa, passerà da 4 miliardi e 393 milioni di abitanti attuali a 4 miliardi e 889 milioni nel 2100, con un trend di crescita meno vertiginoso rispetto a quello africano. Anche per l'America Latina e l'America Settentrionale è stato stimato un incremento: la prima arriverà a contare 721 milioni di abitanti nel 2100 (oggi ne ha 634 milioni), mentre la seconda passerà dai 358 milioni di abitanti attuali a 500 milioni di abitanti nello stesso anno. L'Oceania infine, dai suoi attuali 39 milioni di abitanti, passerà ad averne 71 milioni nel 2100.

5 *In base ai dati riportati nel brano, non è possibile affermare che:*

- A** la popolazione prevista nel 2100 per l'America nel suo insieme, cioè considerando sia le stime per l'America Latina che quelle per l'America Settentrionale, è pari a oltre 1 miliardo e 200 milioni
- B** nel 2050, la popolazione mondiale sarà di poco inferiore ai 10 miliardi e quella africana conterà da sola più di 2 miliardi di persone
- C** in Oceania l'odierno numero di abitanti sarà triplicato nel 2100

6 *In base a quanto riportato nel brano, la popolazione mondiale secondo le stime dell'ONU:*

- A** nel 2100 sarà cresciuta di oltre 3,8 miliardi rispetto ad oggi
- B** si è ridotta di oltre mille volte rispetto a 10.000 anni fa
- C** sta andando incontro a una sempre più equa distribuzione geografica

7 *Quale delle seguenti affermazioni contenute nel brano è corretta?*

- A** La popolazione dell'Africa supererà i 4 miliardi di persone nel 2100
- B** L'Asia raddoppierà i suoi abitanti entro la fine di questo secolo
- C** Le previsioni economiche sono, secondo l'autore, più attendibili di quelle demografiche

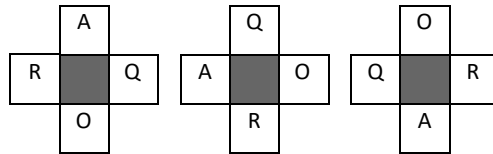
8 *Nel contesto del brano, l'Europa:*

- A** ha attualmente una popolazione pari a circa la metà di quella che si rileva oggi in America Settentrionale
- B** sarà il continente meno popoloso in assoluto nel 2100
- C** è l'unico continente, tra quelli presi in esame nel testo, che andrà incontro a un futuro decremento della popolazione

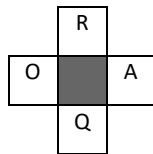
9 **Mario è nato nel luglio del 1973, Sara è più giovane di Mario di tre anni ed è nata il primo mese dell'anno, Carla è nata nel mese successivo a quello di Mario e sei anni prima di Sara, Mara è nata cinque mesi dopo Mario, Luca è nato nello stesso mese di Mara ma è più giovane di cinque anni. Chi dei cinque è nato nell'agosto del 1970?**

- A Luca
- B Carla
- C Sara

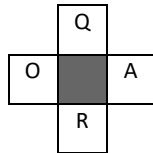
10 **Individuate fra le tre alternative proposte quella che prosegue correttamente la serie di seguito riportata.**



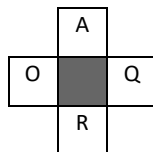
A



B



C



11 **Mirko e Sandro si trovano a 5 km di distanza e alle 8,00 iniziano a pedalare l'uno verso l'altro. Mirko pedala a 5 km/h, mentre Sandro a 8 km/h. Una volta che si sono incrociati continuano a pedalare, ognuno seguendo la propria direzione, allontanandosi così di nuovo tra loro. Alle 10,00 (dopo due ore dalla partenza), quanti chilometri li separano?**

- A 6 km
- B 31 km
- C 21 km

12 **Ciascuna delle alternative proposte è stata classificata secondo una delle seguenti categorie: a) sempre vero; b) qualche volta vero; c) falso; d) opinione. Individuate l'alternativa classificata erroneamente.**

- A I frutti del corbezzolo sono commestibili (sempre vero)
- B Gli uomini vestono la calzamaglia (falso)
- C In Italia si vive bene (opinione)

13 Date le seguenti regole: a) il numero di lettere è doppio oppure la metà; b) le lettere sono le stesse (anagramma); c) le vocali oppure le consonanti sono le stesse anche se poste in un diverso ordine. Una volta stabilita la regola che regge la relazione nella prima coppia di termini di seguito indicata, individuate, fra le tre alternative proposte, qual è quella che in base alla stessa regola può completare la seconda coppia di termini. GOLA - LAGO ; ASSO - ...

- A CUBO
- B GATTO
- C OSSA

14 In ogni coppia di parole, la parola contrassegnata con (*) è stata riscritta osservando una regola. Due delle coppie di parole osservano la stessa regola. Individuate quale delle alternative proposte non osserva tale regola.

- A aspirato; atqisauo (*)
- B rabbioso; saccioto (*)
- C gloriare; hmotiate (*)

15 Date le seguenti regole: a) il numero di lettere è doppio oppure la metà; b) le lettere sono le stesse (anagramma); c) le vocali oppure le consonanti sono le stesse anche se poste in un diverso ordine. Una volta stabilita la regola che regge la relazione nella prima coppia di termini di seguito indicata, individuate, fra le tre alternative proposte, qual è quella che in base alla stessa regola può completare la seconda coppia di termini. TRE - ETERNO ; SOLO - ...

- A FIUME
- B CROSTATA
- C LAGO

16 *Basandovi sulla successione delle lettere dell'alfabeto italiano, individuate quale delle alternative A, B o C può logicamente sostituire il punto di domanda nel gruppo di lettere riportato di seguito.*

	N		B		M		A	
C		?		D		P		E
	R		G		Q		F	

- A O
- B P
- C F

17 *Esaminando le disposizioni dei numeri da 1 a 4 e i valori nei riquadri accanto, che indicano quanti numeri si trovano nell'esatta posizione di una combinazione nascosta, individuate, fra le tre proposte, la combinazione dei numeri corretta tenendo conto che lo stesso numero non può presentarsi più di una volta in una stessa combinazione.*

3	2	1	4	<input type="text" value="2"/>
2	1	3	4	<input type="text" value="2"/>
4	1	2	3	<input type="text" value="2"/>

- A 2; 3; 1; 4
- B 3; 1; 2; 4
- C 1; 2; 3; 4

- 18 Un mazzo di carte è costituito da 4 semi, denominati I/L/M/N, e 10 carte per ogni seme, 1/2/3/4/5/6/7/8/9/10. Nel riquadro di seguito riportate le carte sono state disposte secondo un preciso criterio. Fra le tre alternative proposte individuate la carta che può essere sostituita al punto interrogativo.

2I	5L	8M
1M	4N	7I
4I	?	10M

- A 2N
B 4L
C 7L
- 19 In un'azienda lavorano 900 dipendenti, tutti con un diverso titolo di studio: solo licenza elementare, solo diploma di scuola media inferiore, solo diploma di scuola media superiore e solo laurea. I primi rappresentano il 15%; i terzi rappresentano il 40% e i laureati il 10%. Quanti sono, in numero assoluto, i dipendenti che possiedono solo il diploma di scuola media inferiore?
- A 360
B 315
C 345
- 20 Fissate le prime due condizioni, individuate il valore che può essere correttamente posto dopo l'uguale nella terza condizione. SE XXXXYKKK = 6; SE XXXXXYYYKKKKK = 12; XXXXXYYYYYKKK = ...
- A 3
B 8
C 9
- 21 Due delle tre serie numeriche riportate tra le alternative proposte, osservano la stessa regola. Individuate la serie che non osserva la stessa regola delle altre due.
- A 95; 92; 89; 86
B 79; 74; 69; 54
C 37; 34; 31; 28
- 22 Esaminando le disposizioni dei numeri da 1 a 4 e i valori nei riquadri accanto, che indicano quanti numeri si trovano nell'esatta posizione di una combinazione nascosta, individuate, fra le tre proposte, la combinazione dei numeri corretta tenendo conto che lo stesso numero non può presentarsi più di una volta in una stessa combinazione.

4	1	3	2	<input type="text" value="2"/>
3	2	4	1	<input type="text" value="2"/>
3	1	2	4	<input type="text" value="0"/>
1	3	4	2	<input type="text" value="0"/>

- A 4; 3; 2; 1
B 4; 2; 3; 1
C 4; 2; 1; 3

- 23** Individuato il valore che va logicamente collocato in luogo del punto interrogativo, ricercate fra le tre alternative proposte quella entro cui è compreso tale valore.

7	9	1	3
---	---	---	---

6	8	2	4
---	---	---	---

5	7	?	5
---	---	---	---

- A Uguale a 4
- B Maggiore di 2 e minore di 7
- C Maggiore di 6

- 24** Individuato il valore che va logicamente collocato in luogo del punto interrogativo, ricercate fra le tre alternative proposte quella entro cui è compreso tale valore.

6	14	14	8
---	----	----	---

42	51	51	9
----	----	----	---

?	43	43	12
---	----	----	----

- A Maggiore o uguale a 30
- B Uguale a 21
- C Minore di 30

25 Le c.d. leggi-provvedimento:

- A sono costituzionalmente illegittime, perché la Costituzione impone i caratteri di generalità e astrattezza della legge
- B sono costituzionalmente legittime, ma vanno sottoposte ad un più rigoroso controllo di costituzionalità, in ragione del pericolo di disparità di trattamento in esse insito
- C sono costituzionalmente illegittime, perché violano la riserva di amministrazione di cui all'art. 97 della Costituzione

26 Ai sensi dell'articolo 32 della Costituzione, il trattamento sanitario obbligatorio:

- A non è ammesso, se non per disposizione di legge
- B è sempre ammesso
- C non è ammesso, salvo il consenso informato

27 A quale categoria, tra le altre, devono appartenere i membri del CSM eletti dal Parlamento in seduta comune?

- A Ai professori universitari ordinari in materie giuridiche
- B Agli avvocati dopo 10 anni di servizio
- C Ai professori universitari in materie giuridiche con 15 anni di anzianità

28 Quando non sia stato nominato il Vicepresidente del Consiglio dei ministri, la supplenza del Presidente del Consiglio in caso di sua assenza o impedimento spetta:

- A al Ministro dell'Interno
- B al sottosegretario di Stato alla Presidenza del Consiglio dei Ministri
- C al ministro più anziano secondo l'età

- 29 Nei giudizi di responsabilità amministrativa dinanzi alla Corte dei conti, nel caso di deliberazioni di organi collegiali la responsabilità si imputa:**
- A a tutti i membri del collegio
 - B esclusivamente a coloro che hanno espresso voto favorevole
 - C esclusivamente a coloro che hanno partecipato alla votazione
- 30 La revoca del provvedimento amministrativo determina:**
- A la inidoneità del provvedimento revocato a produrre effetti a partire dal verificarsi del mutamento della situazione di fatto che giustifica la revoca
 - B la inidoneità del provvedimento revocato a produrre ulteriori effetti
 - C la inidoneità del provvedimento revocato a produrre effetti fin dal momento della sua adozione
- 31 Gli obiettivi del ciclo di gestione della performance di cui all'art. 5 del d.lgs. 150/2009, si articolano in:**
- A obiettivi generali e obiettivi specifici
 - B obiettivo macro e obiettivi micro
 - C obiettivi trasversali e obiettivi settoriali
- 32 Secondo l'art. 43 del codice del processo amministrativo, i ricorrenti possono introdurre con motivi aggiunti:**
- A nuove ragioni a sostegno delle domande già proposte, ovvero domande nuove purché connesse a quelle già proposte
 - B esclusivamente domande nuove, che risultino connesse a quelle già proposte
 - C esclusivamente nuove ragioni a sostegno delle domande già proposte
- 33 In materia di contratti pubblici, nella procedura ristretta possono presentare un'offerta:**
- A tutti gli operatori economici interessati che siano muniti di autorizzazione rilasciata da ANAC
 - B tutti gli operatori economici interessati che abbiano maturato almeno cinque anni di esperienza nel settore
 - C soltanto gli operatori economici invitati
- 34 Secondo l'articolo 23-bis del d.lgs. n. 165 del 2001, nel caso di svolgimento di attività presso soggetti diversi dalle amministrazioni pubbliche, il periodo di collocamento in aspettativa del dirigente pubblico:**
- A non può superare i cinque anni e non è computabile ai fini del trattamento di quiescenza e previdenza
 - B non può superare i tre anni e non è computabile ai fini del trattamento di previdenza
 - C non può superare i sette anni ed è computabile ai fini del trattamento di quiescenza e previdenza
- 35 La motivazione del provvedimento amministrativo:**
- A è espressamente richiesta dall'articolo 113 della Costituzione
 - B è espressamente richiesta dalla legge n. 241 del 1990
 - C è richiesta solo per i provvedimenti sanzionatori ed ablatori
- 36 In caso di richiesta di un parere obbligatorio da parte di un'amministrazione ad un'altra amministrazione ai sensi dell'art. 16 della l. n. 241/1990, qualora decorra il termine di 20 giorni dalla richiesta senza che sia stato comunicato il parere o senza che l'organo adito abbia rappresentato esigenze istruttorie:**
- A è obbligo dell'amministrazione richiedente di procedere indipendentemente dall'espressione del parere, a meno che il parere non sia stato richiesto ad amministrazioni preposte alla tutela ambientale, paesaggistica, territoriale e della salute dei cittadini
 - B è facoltà dell'amministrazione richiedente di procedere indipendentemente dall'espressione del parere
 - C è facoltà dell'amministrazione richiedente di procedere indipendentemente dall'espressione del parere, a meno che il parere non sia stato richiesto ad amministrazioni preposte alla tutela ambientale, paesaggistica, territoriale e della salute dei cittadini
- 37 Nei casi in cui una pubblica amministrazione richieda ad altra pubblica amministrazione il prescritto assenso, concerto o nulla osta senza ricevere la comunicazione di tale atto nel termine previsto dall'art. 17-bis della legge n. 241 del 1990:**
- A l'amministrazione procedente può indire la conferenza di servizi simultanea ai sensi dell'art. 14-ter della legge n. 241 del 1990
 - B il Presidente del Consiglio dei ministri, previa deliberazione del Consiglio dei ministri, decide sulle modifiche da apportare allo schema di provvedimento
 - C l'assenso, il concerto o il nulla osta si intende acquisito

- 38 Nel caso debba fare applicazione di una disposizione legislativa interna in contrasto con una disposizione europea priva di efficacia diretta, il giudice deve:**
- A disapplicare la disposizione legislativa interna
 - B dichiarare l'intervenuta abrogazione della disposizione legislativa interna
 - C sollevare in via incidentale dinanzi alla Corte costituzionale la questione di legittimità costituzionale della disposizione legislativa interna
- 39 È cittadino dell'Unione europea:**
- A chiunque abbia la cittadinanza di uno Stato membro
 - B chiunque sia nato da un genitore in possesso della cittadinanza di uno Stato membro
 - C chiunque sia nato sul territorio dell'Unione europea
- 40 La Corte internazionale di giustizia istituita dalla Carta delle Nazioni Unite come organo giudiziario principale dell'Organizzazione è costituita:**
- A da 21 giudici eletti, a prescindere dalla nazionalità, dal Consiglio di Sicurezza dell'ONU
 - B da 15 giudici eletti, a prescindere dalla nazionalità, dall'Assemblea generale e dal Consiglio di Sicurezza
 - C da 15 giudici, provenienti dai Paesi membri permanenti del Consiglio di sicurezza, eletti dall'Assemblea Generale
- 41 In un regime di cambi fissi, un avanzo della bilancia dei pagamenti provoca:**
- A un aumento delle riserve ufficiali e una riduzione dell'offerta di moneta
 - B una riduzione delle riserve ufficiali e dell'offerta di moneta
 - C un aumento delle riserve ufficiali e dell'offerta di moneta
- 42 I beni pubblici puri:**
- A non sono escludibili, ma sono rivali nel consumo
 - B non sono escludibili e non sono rivali nel consumo
 - C sono escludibili e rivali nel consumo
- 43 Si consideri una piccola economia aperta che opera in presenza di una perfetta mobilità internazionale dei capitali. Nel lungo periodo, quando il reddito nazionale è a livello "naturale", un incremento del reddito estero:**
- A riduce le esportazioni nette
 - B aumenta le esportazioni nette
 - C non modifica le esportazioni nette
- 44 Nel lungo periodo, quando la disoccupazione si trova a livello naturale, un aumento delle imposte che le imprese pagano sul lavoro:**
- A accresce il tasso di disoccupazione e il salario reale dei lavoratori
 - B riduce il tasso di disoccupazione e il salario reale dei lavoratori
 - C accresce il tasso di disoccupazione e riduce il salario reale dei lavoratori
- 45 Se due beni di consumo sono perfettamente sostituibili e il saggio marginale di sostituzione tra essi è diverso dal rapporto dei loro prezzi, il consumatore:**
- A acquisterà soltanto uno dei due beni
 - B non acquisterà alcun bene
 - C acquisterà tutti e due i beni
- 46 Il costo fisso medio è:**
- A una funzione dapprima decrescente e poi crescente della quantità prodotta
 - B indipendente dalla quantità prodotta
 - C una funzione decrescente della quantità prodotta
- 47 Nel breve periodo, la curva di offerta di un'impresa concorrenziale è data dal tratto crescente della curva dei costi marginali a partire dal:**
- A punto di minimo della curva dei costi medi variabili
 - B punto di minimo della curva dei costi medi totali
 - C punto di minimo della curva dei costi medi fissi

- 48 Nell'equilibrio macroeconomico di breve periodo, in presenza di una curva LM inclinata positivamente, un aumento parametrico (ossia un incremento esogeno) del livello generale dei prezzi determina:**
- A effetti ambigui sul tasso d'interesse
 - B un incremento del tasso d'interesse
 - C una riduzione del tasso d'interesse
- 49 Una Amministrazione pubblica dotata di un sistema di contabilità integrata, qualora proceda alla vendita di un immobile ad un prezzo uguale al valore contabile rileva:**
- A un impegno in conto capitale, una riduzione delle immobilizzazioni nel patrimonio e la nascita di un debito
 - B un accertamento nel piano finanziario, la riduzione di una immobilizzazione nel patrimonio e la nascita di un credito che successivamente potrà essere riscosso
 - C un accertamento nel piano finanziario, la riduzione di una immobilizzazione nel patrimonio e la nascita di una plusvalenza nell'aspetto economico d'esercizio
- 50 Nella teoria del neo-istituzionalismo quando si parla di campo organizzativo si fa riferimento:**
- A ad un insieme di organizzazioni di natura no-profit finalizzate allo sviluppo di servizi di natura sociale di interesse generale con rapporti strutturati con altre organizzazioni che producono prodotti o servizi simili
 - B ad un insieme di imprese e organizzazioni organizzate in forma di gruppo con legami interni di natura proprietaria
 - C ad un'area riconosciuta di vita istituzionale che include fornitori chiave consumatori di risorse e di prodotti agenzie di controllo e altre organizzazioni che producono prodotti o servizi simili
- 51 All'interno della micro-struttura del lavoro, le mansioni caratterizzate da alti livelli di specializzazione orizzontale e da alti livelli di specializzazione verticale:**
- A sono tipicamente le mansioni più qualificate
 - B sono tipicamente le mansioni di tipo manageriale
 - C sono tipicamente le mansioni poco qualificate, ripetitive e standardizzate
- 52 Secondo la teoria dell'aspettativa valenza di Vroom:**
- A esistono 5 categorie di bisogni: fisiologici, sicurezza, relazione, stima, auto-realizzazione
 - B a giustificare l'intensità della motivazione è il valore attribuito alle diverse possibilità di risultato ponderato con la probabilità di raggiungerlo
 - C esistono tre categorie di bisogni: di potere di achievement, di potere, di relazione
- 53 Con l'espressione path dependency theory si intende:**
- A la formulazione di una modalità ottima per organizzare le attività e le persone (one best way)
 - B che le forze di mercato tendono spontaneamente ad una situazione di equilibrio unica ed efficiente
 - C una sequenza di cambiamenti economici le cui influenze sull'eventuale risultato possono essere dedotte da eventi passati
- 54 Nella teoria dell'agenzia:**
- A l'agente interviene in modo esecutivo in ottemperanza a procedure e regole standard che gli vengono trasferite dal principale
 - B esiste una relazione tra due soggetti il principale e l'agente, dove il principale delega all'agente il raggiungimento di obiettivi di interesse del principale stesso
 - C l'agente rappresenta il principale titolare di interessi e decide in autonomia tutti gli obiettivi da raggiungere
- 55 Nell'ambito del "ciclo delle politiche pubbliche" per "implementazione" si intende:**
- A la fase di stima delle risorse finanziarie necessarie per attuare in concreto un intervento programmato dal decisore pubblico
 - B la fase di attuazione concreta delle scelte adottate dal decisore pubblico
 - C la fase di verifica dei risultati di prodotto e di impatto riscontrabili dopo la piena attuazione di una politica pubblica

- 56** Read the text below and decide which answer best fits the gap.
The government white paper on child poverty didn't mention the findings of the UN report published in November 2018, so it _____ written before then.
- A must have been
 - B should have been
 - C can't have been
- 57** Read the text below and decide which answer best fits the gap.
_____ poverty and inequality in today's society is one of the main concerns for any European government, together with providing opportunities for young people to realise their full potential in their chosen field.
- A Tackling
 - B Confounding
 - C Affronting
- 58** Which of these idiomatic phrases means "to be serious and determined about what you are doing"?
- A Stroke of business
 - B Golden mean
 - C Mean business
- 59** Read the text below and decide which answer best fits the gap.
Mary _____ her grandmother, she's got the same beaky nose and determined chin.
- A looks like
 - B is looking at
 - C is looking like
- 60** Read the text below and decide which answer best fits the gap.
To put it _____, officials appear to have prioritised ticking boxes over actually helping citizens to navigate their way through acres of red tape to claim the benefits they are entitled to.
- A thoroughly
 - B basically
 - C bluntly